

## 1 次の文を読み、後の問いに答えなさい。

2013年6月、富士山の世界遺産への登録が決定しました。その正式名称は「富士山―信仰の対象と芸術の源泉」です。富士山は日本人のだれもが知る美しい山ですが、これからは世界中からたくさんの観光客が訪れて、その雄大な姿とともに、(a)昔から富士山を愛してきた日本人の心も感じてもらえたらうれしいですね。

ところで富士山は、世界遺産に登録される70年以上も前から、周辺の地域とともに国立公園に定められています。この国立公園は「富士箱根(①)国立公園」とよばれ、富士山を中心とする「富士山地域」、東海道の関所で有名な「箱根地域」、昔からの温泉と変化に富む海岸風景で名高い「(①)半島地域」、および活火山で有名な大島や三宅島などからなる「(①)諸島地域」の4つの地域で構成されています。1都3県にまたがる公園の面積は広大で、1217km<sup>2</sup>にもおよびます。

(b)日本全国の国立公園は、現在までに30カ所が指定されています。国立公園とは、(c)日本を代表する自然の風景地を保全し、美しい自然を守り、将来の人々へ引き継ぐとともに、自然の景観を觀賞したり、健康やレクリエーションのために自然とふれあったりして楽しむことができるところです。

(d)日本の国立公園の歴史は、明治時代にさかのぼります。1873年(明治6年)、諸外国を見聞きして新しい日本をつくろうとした明治政府は、最初に欧米諸国のような都市公園をもうけようとしてしました。この時に考えられた公園は、都市にある名所や旧跡などを市民に開放するもので、これにもとづいて、上野公園など5つの公園が誕生しました。その後、都市公園とは別に、自然公園としての国立公園を設置しようという動きが始まりました。1911年(明治44年)に富士山と日光周辺を国が管理する公園にして、貴重な自然を保護していこうとする議論がきっかけでした。このころになると、全国の多くの地域で都市化が進み、都市に住む人々が(e)すばらしい自然にふれ、休養や健康によい場所としての公園が必要だ、と考えられるようになってきました。しかし、自然公園としての国立公園の設置が具体的に進められたのは、大正時代の半ばころからでした。

最初の国立公園は、1920年(大正9年)ころに地域を選定する作業が始まり、全国の16カ所が候補地として選ばれました。その後、1923年(大正12年)に起きた関東大震災の影響などで法律の制定が遅れましたが、昭和になって1931年(昭和6年)、最終的な候補地を選定するための国立公園法が成立し、その3年後の1934年(昭和9年)に(f)最初の国立公園が3カ所指定されました。

こうして誕生した日本の国立公園は、その後何回か新たな地域が指定され、第二次世界大戦前には12カ所に増えました。戦後の連合国軍総司令部(GHQ)の統治時代にも、新たに5カ所の国立公園が設置されました。そして、高度経済成長が始まったころの1957年(昭和32年)、国立公園をはじめとする自然公園を体系的に整備し、環境保全のための規制を強化するために、戦前からの国立公園法にかわって自然公園法が制定されました。(g)現在の国立公園は、この法律にもとづいて設置され、管理・運営が行われています。2013年現在、(h)ある地域を31番目の国立公園にすることが検討されています。これが実現されると、1987年に釧路湿原が国立公園に指定されて以来、27年ぶりの新しい国立公園の誕生となります。

自然公園としての国立公園が最初に考えられた明治時代から平成の現代まで、公園のあり方をめぐって、常に自然の保護か(i)開発かの論争が行われてきました。富士山が、これまで世界遺産に登録さ

れなかったのは、ゴミやトイレなどの問題が解決されていなかったことも原因だったといわれています。富士山では早速、環境保全と登山者の安全確保を目的に、登山者に1人千円の入山料を呼びかけました。北嶺中学校でも毎年6月に全校登山があり、貴重な自然や素晴らしい景観を体験する機会になりますが、そのときもゴミやトイレなどの問題をみんなで考えて行動することになっています。みなさんも、登山をしたり、国立公園を利用したりするときは、「とっていいのは写真だけ、残していいのは足跡だけ」という標語を思い出してみてください。

(1) 文中の空らん ( ① ) に適する地名を漢字で答えなさい。

(2) 下線部(a)について、日本人には古くから山岳信仰があり、山を神々の住む霊地として崇めたり、山そのものを神として崇拝する信仰がありました。このような信仰の対象となったり、修行の場となったりした山を霊山とよびます。日本の各地にある霊山を代表するのが「日本三霊山」とよばれる3つの山で、1つは富士山、あとの2つは北アルプス(飛驒山脈)にある富山県の最高峰と、石川県と岐阜県の県境にある白山です。これらの山々は冬の積雪が多く、山頂付近では夏でも雪渓(万年雪)が残るところですが、このうち富山県の最高峰の雪渓には、25メートルの積雪の下に厚さ60メートル、長さ1キロにわたる氷体があり、これが1年に約4メートルの流動をすることが全地球測位システム(GPS)を用いた調査でわかり、一昨年に日本で始めて氷河であると確認されました。また、この山は特別天然記念物のライチョウやニホンカモシカが生息することや、ふもとは黒部ダムがあることでも知られています。この山の名を漢字2字で答えなさい。

(3) 下線部(b)について、日本全国の国立公園のうち、もっとも北にあるものともっとも南にあるものの組み合わせとして正しいものを、次のア～エのうちから1つ選び、記号で答えなさい。

- |                     |               |
|---------------------|---------------|
| ア 最北 — 利尻礼文サロベツ国立公園 | 最南 — 屋久島国立公園  |
| イ 最北 — 知床国立公園       | 最南 — 屋久島国立公園  |
| ウ 最北 — 利尻礼文サロベツ国立公園 | 最南 — 西表石垣国立公園 |
| エ 最北 — 知床国立公園       | 最南 — 西表石垣国立公園 |

(4) 下線部(c)に関して、数々の日本の風景地のなかでもっとも代表的なものは「松島」「宮島」「天橋立」の日本三景でしょう。このうち「天橋立」は、海の中に細長くのびた砂州とよばれる地形で、川から流れ出た土砂と沿岸の海流によってつくられたといわれています。青い海にはさまれた白い砂浜に、たくさんの松が生い茂る景色は古い時代から有名で、和歌に詠まれたり絵に描かれたりしました。この天橋立がある都道府県に関して述べた文として、もっとも適当なものを、次のア～エのうちから1つ選び、記号で答えなさい。

- |  |
|--|
| ア 西陣織や清水焼など、古くからの技術をいかした伝統工芸品の生産が有名です。       |
| イ リアス海岸が発達する湾には、美浜・大飯など14もの原子力発電所が集中しています。   |
| ウ 太平洋ベルト地帯に位置する沿岸部では自動車工業が発達し、また牡蠣の養殖が全国一です。 |
| エ 水揚げ量の多かった気仙沼や女川などの漁港は、東日本大震災で大きな被害を受けました。  |

(5) 下線部(d)について、日本で最初に国立公園が設置されたのは1934年(昭和9年)でしたが、世界で最初に国立公園が設置されたのは、それよりも60年以上も前のことでした。世界で最初の国立公園は8990km<sup>2</sup>もの面積を持つ広大な公園で、周期的に熱水を吹き上げる間欠泉や無数の温泉、溪谷や滝、そして多くの野生動物の生息地として有名です。この世界で最初の国立公園ともっとも関係の深い語句と、この国立公園を設置している国の名の組み合わせとして正しいものを、次のア～エのうちから1つ選び、記号で答えなさい。

- ア ガラパゴス — オーストラリア                      イ グレートバリアリーフ — ニュージーランド  
ウ アルプス — イギリス                                エ イエローストーン — アメリカ合衆国

(6) 下線部(e)について、日本は温暖で降水量も多く、豊かな自然に恵まれており、山々には森林が発達しています。次の表は、FAO(国連食糧農業機関)が先進諸国としている国々の国土に占める森林面積の割合を示したものです。表中の(②)は「森と湖の国」とよばれる北ヨーロッパの国で、近年は発達した社会福祉や教育が世界中から注目されています。この国の名を答えなさい。

順位	国名	国土に占める森林面積の割合
1	( ② )	72.9%
2	スウェーデン	68.7%
3	日本	68.5%
4	韓国	63.0%
5	ロシア	49.4%
6	オーストリア	47.1%
7	スロバキア	40.2%
8	ポルトガル	38.1%
9	スペイン	36.4%
10	チェコ	34.4%

(FAO 国連食糧農業機関 世界の森林評価2010より作成)

(7) 下線部(f)について、この3カ所とは「霧島山」「雲仙岳」「小豆島・屋島」です。このうちの1カ所では、温暖で一年を通じて雨の少ない気候を利用して、ある果樹の栽培がさかんです。この果樹は、実が食用になり、また搾った油がさまざまに利用される作物で、原産地の地中海沿岸では、数千年も前から栽培されてきました。現在でも、ギリシアやイタリア、スペインなどが世界的な生産国です。日本では明治時代の末に、この地域で栽培が始まり、農家の長年の努力が実って、現在では国内生産量の90%以上を産出する特産物になっています。この果樹作物の名を答えなさい。

(8) 下線部(g)について、現在の国立公園の管理・運営を担当している国の省庁の名を答えなさい。

(9) 下線部(h)について、2013年現在、31番目の国立公園として検討されている地域は、200種類以上のサンゴが高密度に生息する珊瑚礁が確認され、また毎年1月～4月ころには多数のザトウクジラが繁殖する海域と、そこに点在する島々です。貴重な珊瑚礁は、近年の海水温の上昇によって、サンゴが白っぽくなって死滅する白化現象やオニヒトデの大発生による食害が心配されていますが、国立公園に指定されて保護が強化されることが期待されます。この31番目の国立公園として検討されている海域にある島々の名として正しいものを、次のア～エから1つ選び、記号で答えなさい。

ア 奄美諸島      イ 尖閣諸島      ウ 慶良間諸島      エ 歯舞諸島

(10) 下線部(i)について、国立公園はいくつかの区域に分けられ、中心の部分は一切の開発が禁止されていますが、周辺の区域はある程度が開発が認められることもあります。国立公園には火山が多く含まれているため、これを利用したエネルギーの開発や調査が行われることがあります。このうち火力発電や原子力発電の代替になりうると期待されている発電の方法を答えなさい。

## 2 次の文を読み、後の問いに答えなさい。

現在の日本の人口は約1億2600万人です。これは(a)世界の国々の中で10番目の多さになります。世界の国々はおよそ200か国ですから、日本の人口はかなり多い方だといえるでしょう。では、日本はもともと人口が多かったのでしょうか。それとも以前は少なかったけれど、だんだん増えてきたのでしょうか。さらに、現在は人口が増加しているのでしょうか。それとも減少しているのでしょうか。

これらの疑問を明らかにするために、まず時代をさかのぼって日本の人口の移り変わりを見てみましょう（人口はおよその数です）。

時代 (年)	平安時代半ば (1000年ころ)	江戸幕府成立 (1603年)	明治元年 (1868年)	現在 (2013年)
人口	650万人	1127万人	3330万人	1億2600万人

この表から読み取れるように、今から1000年ほど前には650万人であった人口は、時代とともにゆるやかに増加を続け、1868年（明治元年）には3300万人に達しました。ところが、この後に人口は急激に増加し、現在までの約150年間で1億2600万人になりました。明治時代までの約900年で2700万人ほどの増加であったのに対し、明治時代からの150年足らずの間に9000万人以上も人口が増加したことになります。爆発的な人口増加といっていいいでしょう。

このような人口の激増は、明治時代以降の日本だけに特有なことではなく、(b)産業革命の時代の欧米諸国や、第二次世界大戦後の中国や東南アジア諸国でも見られたことでした。現在の（①）でも、人口が爆発的に増加しています。

では、現在でも日本の人口は爆発的に増加しているのでしょうか。次の明治時代から現代までの人口を20年ごとにまとめた表を見てみましょう。

年	1890年	1910年	1930年	1950年	1970年	1990年	2010年
人口	3990万人	4918万人	6445万人	8320万人	1億0372万人	1億2361万人	1億2805万人
1年あたりの人口増加	—	46万人	76万人	94万人	103万人	99万人	22万人

これを見ると、比較的最近まで、人口は急増していたことがわかります。(c)とくに1930年から1990年の間は、毎年100万人前後の増加があり、60年間で人口は2倍になりました。ところが、それを過ぎると人口増加はゆるやかになっています。この状況を、近年の人口の推移を5年ごとにまとめ、現在と比較した表で、もう少し詳しく見てみましょう。

年	1985年	1990年	1995年	2000年	2005年	2010年	2013年
人口	1億2105万	1億2361万	1億2557万	1億2693万	1億2777万	1億2805万	1億2600万
1年あたりの人口増加	—	51万	39万	27万	17万	6万	-68万

1985年を過ぎると人口の増加は極端にゆるやかになりました。2000年からの10年間の人口は、ほぼ横ばいと見ていいでしょう。そして、ついに最近の数年は、人口が減少に転じました。

現在の日本は、「人口減少社会」といわれます。最近「合計特殊出生率」という数値が話題になりま

すが、これは1人の女性が生涯に生む子どもの数の平均値で、この数値が2.08あれば人口は増えも減りもしないといわれます。近年、日本の合計特殊出生率は低下し、現在は約(②)です。このままでは、今後ますます人口が減少していくと考えられ、みなさんが40歳になるころの2040年には約1億人、50歳になるころの2050年には約8000万人にまで人口は減少するといわれています。人口の減少は、日本の経済規模を縮小させ、さまざまな問題を発生させると予想されていますが、それと同時に、人口の減少にともなう(d)年齢別人口(15歳未満の「年少人口」、15歳以上65歳未満の「生産年齢人口」、65歳以上の「老年人口」)の割合の変化が大きな社会問題になると考えられています。

ところで、このような人口の減少は、日本以外の国々にも見られるのでしょうか。次の表は、いくつかの国の人口と今後の予想をまとめたものです。

国	2010年	2050年(予想)
中国	13億4000万人	12億9000万人
インド	12億2000万人	16億9000万人
アメリカ	3億1000万人	4億人
フランス	6200万人	7200万人

表の国の中で、日本と同じように人口の減少が予想されているのは中国だけです。これは中国が(③)政策を行い、積極的に人口の抑制を行っているためと考えられます。これに対し、(e)インドやアメリカ、フランスなどは今後も人口が増加すると予想されています。

このように考えていくと、「人口」という1つのテーマでも、日本の将来を考えることにつながり、また国ごとの特徴を発見していき、その国について理解を深めることにつながることがわかりますね。数値となってあらわれた社会の現象の原因を考え、自分なりに仮説をたてながら、いろいろな資料を使って解き明かしていくことが、社会科という教科のおもしろさであり大切さです。みなさんも一緒に北嶺中学校で社会科を勉強しませんか。

(1) 下線部(a)について、日本より人口の多いのは、中華人民共和国(中国)・インド・アメリカ合衆国(アメリカ)・インドネシア・ブラジル・パキスタン・ナイジェリア・バングラデシュ・ロシアの9か国ですが、このうち中国・アメリカ・ロシアの現在の指導者の名の組み合わせとして正しいものを、次のア～エのうちから1つ選び、記号で答えなさい。

- |   |              |                |                  |
|---|--------------|----------------|------------------|
| ア | 中国 — 習近平国家主席 | アメリカ — ブッシュ大統領 | ロシア — プーチン大統領    |
| イ | 中国 — 胡錦濤国家主席 | アメリカ — オバマ大統領  | ロシア — メドベージェフ大統領 |
| ウ | 中国 — 習近平国家主席 | アメリカ — オバマ大統領  | ロシア — プーチン大統領    |
| エ | 中国 — 胡錦濤国家主席 | アメリカ — ブッシュ大統領 | ロシア — メドベージェフ大統領 |

(2) 下線部(b)に関して、世界で最初の産業革命は1700年代後半のイギリスで始まりましたが、日本の産業革命は1800年代末から1900年代初めに本格化しました。その後、日本でも工業が本格的に発達し、戦後の復興をへて1950年代半ばから高度経済成長が始まりました。資源に乏しい日本の経済を、工業製品の輸出が支えているのは、現在も戦前も変わりありませんが、主な輸出品は大きく変わりました。戦前の日本と、現在の日本の最大の輸出品の組み合わせとして正しいものを、次のア～エのうちから1つ選び、記号で答えなさい。

- |   |          |          |   |         |          |
|---|----------|----------|---|---------|----------|
| ア | 戦前 — 繊維品 | 現在 — 自動車 | イ | 戦前 — 船舶 | 現在 — 繊維品 |
| ウ | 戦前 — 鉄鋼  | 現在 — 船舶  | エ | 戦前 — 鉄鋼 | 現在 — 自動車 |

(3) 文中の空らん ( ① ) について、この地域は、赤道の南北に広がる大陸で、熱帯の密林や多くの野生動物がすむ草原、草木の生えない砂漠など、さまざまな気候が分布しています。この大陸には53の国があり、話されている言語の数は150とも200ともいわれるほど多様です。また宗教も、キリスト教やイスラーム教といった世界的な宗教の他に、さまざまな宗教が存在しています。空らん ( ① ) に当てはまる語句を、次のア～エのうちから1つ選び、記号で答えなさい。

- ア ヨーロッパ諸国      イ アフリカ諸国      ウ 南アメリカ諸国      エ オセアニア諸国

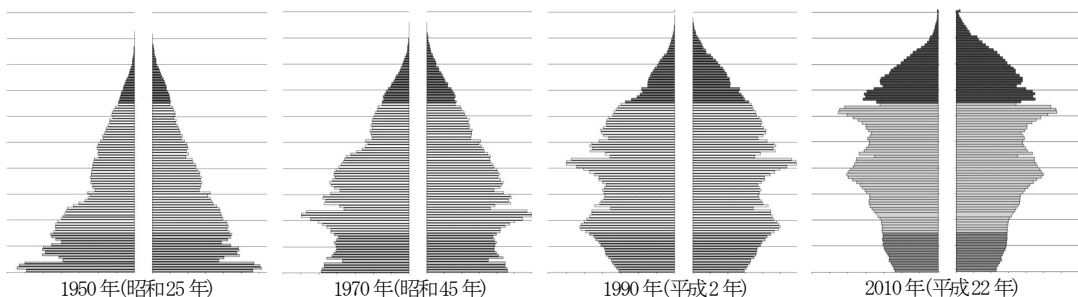
(4) 下線部(c)について、この時期に日本の人口が急増した要因として**適当でないもの**を、次のア～エのうちから1つ選び、記号で答えなさい。

- ア 医療技術や医薬品が発達したため、国民の平均寿命が延びたこと。  
 イ 栄養状態や衛生状態が改善されたため、乳幼児の死亡率が低下したこと。  
 ウ 工業化による経済発展によって国民の所得水準が向上したため、生活が安定したこと。  
 エ 農業の発達によって国民が必要とする食料をすべて自給できるようになったこと。

(5) 文中の空らん ( ② ) にあてはまる、現在の日本の合計特殊出生率にもっとも近い数値を、次のア～エのうちから1つ選び、記号で答えなさい。

- ア 0.7      イ 1.4      ウ 2.1      エ 2.8

(6) 下線部(d)について、年齢別人口を調べるものとして「人口ピラミッド」があります。人口ピラミッドは、縦軸に年齢、横軸の左右に男女別の人口を示すものです。次の4つの人口ピラミッドから、近年の日本は、老年人口が増加し、それに対して生産年齢人口の割合と年少人口が減少していることがわかります。このような社会を何とよびますか。**漢字**で答えなさい。



(7) 文中の空らん( ③ )にあてはまる語句を答えなさい。

(8) 下線部(e)について、このうちアメリカは「合計特殊出生率」が2.08程度ですが、今後の人口は1億人近く増加すると予想されています。その理由を、アメリカ社会が「人種のサラダボウル」とよばれることを参考にして、簡潔に述べなさい。

(9) 人口について考えるとき、数としての人口だけでなく、面積あたりの人口、つまり人口密度という点で考えることも重要です。日本の人口密度は各都道府県によって大きく異なります。次の地図中のア～エの都道府県について、現在の人口密度が**小さい順**に記号を並べなさい。





### 3 次の文を読み、後の問いに答えなさい。

私たちの身の回りには、たくさんの物があふれています。近所の田畑や工場で作られたものだけでなく、全国各地や海を越えて外国から運ばれてきたものも多くあります。また、物ばかりでなく、情報も私たちの身の回りにあふれています。新聞やテレビなどのマスメディアによる情報だけでなく、インターネットを利用すれば世界中の情報を瞬時に手に入れることができ、それを多くの人たちと共有することもできます。これほどたくさんの物や情報にあふれた時代は、今までになかったでしょう。では、私たちの歴史の中で物や情報はどのように運ばれたのでしょうか。こういった観点から日本の歴史を振り返ってみましょう。

今から1万3000年前ころに始まる(a)縄文文化の時代は、石器や土器を使った狩猟や採集が生活の中心でした。そのため、狭い範囲で自給自足の生活をしていたと思われがちですが、実際には、石器の材料となる黒曜石などの石材が、相当に広い範囲にわたって大量に運ばれていたことがわかっています。また、その後の(b)弥生文化の時代には、海をへだてた朝鮮半島や中国と関係をもち、使いを送ることもあったことが中国の歴史書などからわかっています。

日本で最初に全国の交通のしくみが整えられたのは奈良時代でした。奈良時代は、律令にもとづく国の運営がめざされ、(c)政治のしくみや税などの制度、さらに中央と地方のしくみなどが整えられました。この時代の都と地方は、政府がつくった道路によって結ばれました。当時の道路は幅がおよそ9メートルもあり、山を削り、低地には盛り土をし、川には橋を架けて道路を通しました。また、一定の間隔で休息や宿泊ができる駅がおかれ、乗り換え用の馬も用意されていました。駅を利用したのは役人で、政府の命令書や地方からの報告文書といった情報を持って、都と地方を往復しました。地方の農民は道路で野宿を重ねながら都まで税を運び、また労役や(d)兵役にも出向きました。

時代が下って、鎌倉時代になると、幕府のおかれた鎌倉と朝廷のある京都を結ぶ道路が整えられ、公の任務のある役人や兵士の他にも、一般の人々の往来が増加しました。この時代には、歌人の西行が京都から鎌倉を通して東北地方まで旅したことや、阿仏尼という女性が(e)土地の相続をめぐる裁判のために京都から鎌倉に向かい、その様子を『十六夜日記』に著したことがよく知られています。また、この時代は仏教がめざましく発展した時代だったので、(f)鎌倉に新しく建立された寺院に京都から僧が招かれたり、新しい仏教を布教するために多くの僧が鎌倉に入ったりしました。このような人たちによって、鎌倉にはさまざまな物や情報もたらされました。


江戸時代になると、幕府は江戸を出発点とする東海道や中山道などの五街道を整備し、宿場や関所を設けました。これらの街道は、京都や長崎などの役所に派遣された幕府の役人が通行し、(g)全国の大名たちが江戸と自分の藩とを往復し、さらに江戸や大阪の商人も頻繁に行き交いました。(h)俳人の松尾芭蕉も街道を通して各地を旅し、多くの名句とすぐれた紀行文を残しました。何十年かに一度は、朝鮮王国や琉球王国からの外交使節の一行が通行することもありました。また、河川や海上の航路も開かれ、各地の年貢米や特産物などが大量に輸送されるようになり、江戸や大阪の人々の生活を支えました。この時代には、一般の庶民の旅行もさかんになり、伊勢神宮や善光寺、金毘羅宮などの遠方の寺社へのお参りや、名所や温泉などへの物見遊山に行くために、たくさんの人々が街道や航路を利

用しました。これらの人々は、旅先で自分たちの故郷の自慢をしたでしょうし、帰郷してからは旅先のできごとを家族や友人たちに知らせたことでしょう。

このように、古い時代から道路や航路は、人が移動するだけでなく、物や情報も行き来するところでした。江戸時代までの日本では、物や情報は人によって直接に運ばれ、人によってもたらされました。そのため、情報の伝わる速度も人の移動の速度を越えるものでなかったため、今と比べるとたいへんゆっくりしたものでした。

ところが、明治時代になって、(i)欧米から電信などの科学技術が導入されると、情報は人が運ぶのではなく電気信号によって瞬時に伝えられるようになりました。これ以来、現在に至るまでの約 100 年間に、(j)電話や人工衛星やインターネットなどの通信技術の進歩によって、いっそう情報伝達の速度が加速し、また伝達される情報の量が飛躍的に増加しました。この変化がどのようなもので、これによって社会がどのように変わったか、とても興味のあるところですね。このような現代的な問題も意識して、中学校に入学してから社会の勉強をしていきましょう。

- (1) 下線部(a)について、これより以前の時代には、日本にもゾウや大形のシカがいて、人々はそれらの大形動物を槍や棒を使って沼地や湿地に追い込み狩猟をしていたと考えられています。しかし、縄文文化の時代がはじまるころから気候が大きく変化したため、大形動物は絶滅し、かわって現在のシカやイノシシなどの中形や小形の動物が増えました。これらの動物は動きがすばやいため、それまでの狩猟の方法ではとらえることができません。そこで、縄文文化の時代の人々は、狩猟のための新しい道具を使いはじめました。次の図は、そういった道具の一部で、黒曜石でつくられたものです。それぞれの大きさは縦の長さが2～3 cmです。これを用いた新しい道具は何ですか。漢字2字で答えなさい。



- (2) 下線部(b)について、このころの日本と朝鮮半島や中国との関係を述べた文としてもっとも適当なものを、次のア～エの文のうちから1つ選び、記号で答えなさい。

- ア 北九州地方の小国であった奴国が中国に使いを送り、皇帝から金印を授けられました。
- イ 中国の進んだ制度や文化を取り入れるため、使いを送るだけでなく、多くの留学生らが派遣されました。
- ウ 中国の皇帝に使いを送り、対等な関係を結ぶことを求める手紙を手渡しました。
- エ 中国との貿易がさかんに行われ、日本は中国製の銅銭を大量に輸入しました。

(3) 下線部(c)について、この時代にはどのような政治や税の制度がつくられましたか。次のア～カの文のうちから適当なものを2つ選び、記号で答えなさい。

- ア 大和地方の有力な豪族が家柄や職業に応じて臣や連<sup>おみ</sup>などの姓<sup>むらじ</sup>を与えられ、大王を中心とする朝廷を形成しました。
- イ 中央の政治の最高機関である太政官のもとに、大蔵省や民部省、刑部省<sup>きょうぶ</sup>などの省がおかれ、それぞれの政務を分担しました。
- ウ 天皇を補佐する摂政や、天皇に代わって政治を担当する関白がおかれ、これらの地位には天皇と親戚の関係になった藤原氏がつきました。
- エ 農民には口分田が与えられ、その収穫の一部に加え、布や各地の特産物などを税として都に納めさせました。
- オ 土地を所有する農民には地券が発行され、それに示された地価（土地の価格）の3%を税として納めさせました。
- カ 役人を派遣して田畑の広さや収穫量を調査し、その土地を耕作する農民を納税者として登録したうえで税を課しました。

(4) 下線部(d)について、この時代の兵役は、成年男子3～4人に1人を兵士とするもので、兵士は地方の軍団に配属されて訓練をした後に、一部は都の警備や北九州の沿岸の防備に送られました。北九州の防備にあてられた兵士は防人<sup>さきもり</sup>とよばれましたが、この任期は3年間もの長い期間であったうえ、税は免除されませんでした。そのため、家族と引き離されて防人となった者にとっても、また重要な働き手を失いながら税を負担し続ける家族にとっても、非常に重く厳しい負担でした。このような防人たちや、残された家族らの悲痛な嘆きの歌が、奈良時代に編まれた歌集『万葉集』に数多く残され、「防人歌（さきもりのうた）」とよばれています。次にあげるア～エの和歌のうち、防人歌はどれですか。1つ選び、記号で答えなさい。

- ア 天の原<sup>あま</sup> ふりさけみれば 春日<sup>かすが</sup>なる 三笠<sup>みかさ</sup>の山に 出し月<sup>いで</sup>かも
- イ 人はいさ 心も知らず ふるさとは 花ぞ昔の 香ににほひける
- ウ 韓衣<sup>からころも</sup> 裾<sup>すそ</sup>に取り付き 泣く子らを 置きてぞ来ぬや 母なしにして
- エ 見渡せば 花も紅葉も なかりけり 浦<sup>とみや</sup>の苫屋の 秋の夕暮

- (5) 下線部(e)について、土地をめぐる裁判は御成敗式目にもとづいて行われましたが、これを定めるにあたって、幕府の執権であった北条泰時は、弟で六波羅探題ろくはらたんたい（京都の警備や朝廷との対応にあたる仕事）であった重時しげときに次のような手紙を書き送っています。この手紙の内容について述べた文としてもっとも適当なものを、下のア～エのうちから1つ選び、記号で答えなさい。

この式目を作るにあたって、何を根拠にして定めたのかと、京都の人々が非難を加えることもありましょう。たしかに、とくべつに根拠とした法や文章はありません。ただ武家社会の道理の指し示すところを記したもので、あらかじめ裁判のありかたを定めて、人の身分の高下にかかわらず、偏りなく裁定されるように、子細を記録しておいたものです。この裁判の基準は、古くからの律令や貴族社会のきまりと異なるところも少々ありますが、もっぱら武家の人々へのはからいのためだけのものです。これによって、京都の貴族社会のきまりや律令おきての掟は、少しも改まるべきものではありません。およそ、古くからの京都の法令は尊いものですが、武家の人々や民間の人々には、それを知っている者など、百人千人のうち一人二人もおりません。もし京都の人々がこの式目を非難することがありましたなら、こうした趣旨を心得た上で、応答してください。


- ア 北条泰時は、「御成敗式目は古くからの律令や貴族社会のきまりを根拠にしたものなので、これらの京都の法令を改めるものではない」と述べています。
- イ 北条泰時は、「幕府の御家人などの武家の人々は京都の法令を知らないので、武家社会の道理をもとにした独自の裁判の基準を定めた」と述べています。
- ウ 北条泰時は、「御成敗式目によって、古くからの律令や京都の法令は改正されるので、京都の貴族も新しい武家社会の裁判に従うことになる」と述べています。
- エ 北条泰時は、「京都の貴族は武家社会の道理を知らないので、古くからの律令や京都の法令と少しも異ならないように裁判の基準を定めた」と述べています。

- (6) 下線部(f)について、鎌倉には、幕府が保護した宗派の寺院が数多く建立されました。次の図は、鎌倉時代から室町時代を代表する建築として有名な円覚寺舍利殿ですが、円覚寺も幕府が保護した宗派の寺院として建立されました。この宗派は「鎌倉新仏教」とよばれるものの一つで、栄西という僧によって開かれたものです。下のア～エの文のうち、栄西について正しく述べたものを1つ選び、記号で答えなさい。




- ア 栄西は、中国で学んだ浄土宗を日本に伝え、「南無阿弥陀仏」と唱えれば、だれでも阿弥陀仏に救われて極楽浄土へ往生できると説きました。
- イ 栄西は、中国で学んだ禅宗を日本に伝え、禅をさかんにしてすぐれた人物を育成することが国家をまもり繁栄させる基礎であると説きました。
- ウ 栄西は、中国で学んだ密教を日本に伝え、京都の北にある比叡山に延暦寺を建立しました。
- エ 栄西は、中国で学んだ法華経を日本に伝え、「南無妙法蓮華経」と唱えなければ人も国も救われないと説きました。

- (7) 下線部(g)について、次の図は加賀藩の大名が江戸に向かう行列を描いたものの一部です。行列の人数は武家諸法度によって定められ、藩の大きさに応じて、例えば 10 万石以上の藩は 230～240 人、20 万石以上の藩は 400～450 人などとされていましたが、実際にはこの人数を大幅に上回るのが通例で、100 万石を超える加賀藩の行列は、総勢 4000 人にも及んだといわれています。このように大名たちが江戸と自分の藩を往復することを何とよびますか。漢字 4 字で答えなさい。



(8) 下線部(h)について、松尾芭蕉は生涯に何度も長い旅に出て、『野ざらし紀行』『笈おいの小文』などの多くの俳句を織り込んだ紀行文を記しました。その中でもっとも代表的なものは、1689年の3月に江戸を旅立ち、現在の東北地方から北陸地方をまわって8月に大垣に入り、さらに伊勢神宮の参拝へ向かうまでの約150日間にわたる長い旅を題材にしたものです。この作品の中には、旅の紀行とともに「夏草や兵つわもの どもが夢のあと」「閑しずか さや岩にしみ入蟬いるせみの声」「さみだれを集あつめて早し最上川」「荒海や佐渡によこたふ天あまのがわ河」といった松尾芭蕉の代表的な俳句が詠まれています。この作品の名を答えなさい。

(9) 下線部(i)について、日本で電信事業が開始されたのは1869年(明治2年)のことで、東京・横浜間で電信線が開通し、公衆電報の取り扱いが始まりました。次の図は、この時に用いられた電信機です。この電信機は、送信側で電鍵を打つと電流が流れ、受信側の電磁石が作用して鉄片を引きつけ、符号を紙テープに記録するしくみでした。伝達される情報は、短い発信(点)と比較的長い発信(線)のみだったので、この2種類の情報を組み合わせてアルファベットや数字を表しました。点を「・」、線を「—」で表せば、「SOS」は「・・・—・・・」となります。日本国内では、これに準じて和文の五十音の符号も作られました。この電信機と英文の符号は、1837年ごろにアメリカで発明され、1844年にはアメリカ東部のワシントンとボルティモアの間で実用化されました。この発明をしたアメリカ人の名を答えなさい。



(10) 下線部(j)について、情報化社会といわれる現代の私たちは、インターネットなどを通じてさまざまな情報に接しています。私たちがこのような情報を発信したり受信したりするとき取るべき態度として適切なものを、次のア～エのうちから1つ選び、記号で答えなさい。

ア 虚偽きよぎの情報はトラブルの原因になることが多いので、どのような場面でも、自分の氏名やメールアドレス、電話番号などを隠さずに公開することがトラブルを避ける方法です。

イ 相手の顔が見えないインターネット上のコミュニケーションでも、マナーや礼儀が大切なので、自分あてに届いた電子メールには必ず返信するべきです。

ウ インターネットは現実の社会とはまったく異なる仮想の世界なので、どのような情報を発信しても、また受信やダウンロードをしても、現実の社会で犯罪になることはありません。

エ インターネット上には誤った情報も多く、また悪意や犯罪に結びつく情報もあるので、自分が接する情報が正しく適切であるかどうかをしっかりと考え、取捨選択の判断をしなければなりません。

#### 4 次の文を読み、後の問いに答えなさい。

人と人とのつながりや共通点とは不思議なもので、そのつながりや共通点がどのようなものだったとしても、歴史をより興味深くしてくれます。以下の文は「出身藩・キリスト教・場所」などを共通点としたものです。

昨年のNHK大河ドラマは『八重の桜』でした。主人公の八重という女性は、(a)1854年、【 あ 】藩砲術師範しはんの家に生まれ、薩摩藩・【 い 】藩などを中心とする新政府軍との戦いじゅうに銃をとり、断髪・男装で参加しました。その後、現在の( ① )大学の創立者となる新島襄にいしまじょうの妻となり、夫の死後は日本赤十字社に入って、日清・日露戦争の際に看護婦として活躍しました。

八重の夫である新島襄は、アメリカに密航してキリスト教の信者となり、アメリカの大学では後に札幌農学校（現在の北海道大学）教頭となる( ② )の教えを受けたこともありました。また、アメリカ滞在中に出会った木戸孝允の通訳となって、ヨーロッパにも渡った後、1874年に帰国しました。木戸は1866年、【 う 】藩出身の坂本龍馬の仲介で西郷隆盛と会談し、薩摩藩と同盟を結んだ時の【 い 】藩の代表で、江戸幕府を倒して新政府をつくった中心人物の一人です。

新島は1890年、東京から約65 km離れた(b)大磯町で病氣療養中に亡くなりました。1940年に「新島襄終焉しゅうえんの地」の石碑が立てられ、現在も命日の1月23日には、新島を創立者とする( ① )大学や町の関係者などが集まり、冥福を祈っています。大磯町は相模湾の遠浅の海に面し、1885年に日本最初の海水浴場が開設された温暖な土地柄から、病気の療養地として、また政財界の要人の別荘地として知られるようになりました。なかでも木戸と同じ【 い 】藩出身で1885年に日本で最初に内閣を組織した( ③ )や、戦後に歴代最多の5回も総理大臣となった( ④ )の別荘が有名でした。

新島と同じ時代を生き、同じように晩年を大磯町で過ごして亡くなった中島信行なかじまのぶゆきという人物がいます。中島は【 う 】藩出身で、坂本龍馬が結成した海援隊に参加しました。その後、自由民権運動家となって活動していた1880年、東京の上野で開かれたキリスト教の集会に参加して影響を受けました。翌1881年、同じ藩出身の(c)板垣退助を党首として自由党を結成し、自らも副党首となって政治活動に熱心に取り組んでいた時、新島襄と出会ったこともあり、1880年代半ば、キリスト教の信者となりました。政治活動の面では、初代衆議院議長、イタリア公使などを歴任しました。

新島襄と中島信行が亡くなった大磯町に、澤田美喜という女性が設立した「エリザベス・サンダース・ホーム」という児童養護施設があります。澤田は、【 う 】藩出身の実業家である(d)岩崎弥太郎やたらうの孫の一人で、外交官の夫がキリスト教徒だったこともあり、結婚を機にキリスト教の信者となりました。彼女は、夫の駐在先のロンドンで、孤児院でのボランティア活動をしたことから、孤児やそれを取り巻く厳しい社会環境について深く関心を持ち始めました。

第二次世界大戦後、進駐してきたアメリカ軍兵士と日本人女性の間にも生まれた子供が孤児となり、多くの「混血孤児」が社会から不遇な状況にありました。このような状況を何とかしようと、澤田は占領軍や日本政府と何度も交渉し、財閥解体によって岩崎家のものではなくなった大磯町の別荘を買い戻して、(e)1948年に孤児院「エリザベス・サンダース・ホーム」を設立しました。ここで澤田は「混血孤児たちの母」となり、多くの子どもたちが施設を巣立っていきました。現在は、子どもを取り巻



く環境が設立当時から大きく変わったこともあり、児童養護施設として約80名の子どもたちが暮らしています。なお、この旧岩崎家別荘の敷地には、澤田が「(f)かくれキリタン」に関する物品の収集家でもあったことから、それらを展示した澤田美喜記念館などもあります。

一人の生涯しょうがいを調べると、実に多くの人とのつながりがあり、その中に何らかの共通点があるものです。そういったことを本などでさらに調べ、時に訪れてみると、新たな発見があるかも知れませんね。

(1) 下線部(a)について、この年には、アメリカ東インド艦隊司令長官のペリーが、前年に引き続き黒船を率いて来航し、その圧力に屈した幕府はアメリカと条約を結びました。この条約によって日本は開国し、長く続いた鎖国が終わりました。このとき結ばれた条約の名を漢字で答えなさい。また条約により、開港された下田にはアメリカの領事館が設置されました。このときアメリカ総領事となり、貿易を開始する条約を結ぶよう幕府に強くせまった人物の名を答えなさい。

(2) 文中の空らん【あ】～【う】に当てはまる藩の名の組み合わせとして正しいものを、次のア～カのうちから1つ選び、記号で答えなさい。

ア あ — 長州	イ — 土佐	う — 会津	イ あ — 長州	い — 会津	う — 土佐
ウ あ — 土佐	い — 長州	う — 会津	エ あ — 土佐	い — 会津	う — 長州
オ あ — 会津	い — 長州	う — 土佐	カ あ — 会津	い — 土佐	う — 長州

(3) 文中の空らん ( ① ) について、この大学は、新島襄が京都に設立した英学校が前身となっています。新島はこの英学校を、キリスト教の精神にもとづく教育によって自主的で国際感覚の豊かな人材を育てる総合大学にするために力をつくしました。新島の夢であった大学の設立は、彼の死から20年以上後になってようやく認可され、現在までに有数の総合大学の一つに発展しています。( ① ) に当てはまる大学の名を漢字で答えなさい。

(4) 文中の空らん ( ② ) について、次の図はこの人物の肖像です。この人物は、アメリカのマサチューセッツ州出身の自然科学学者で、北海道開拓にあたる人材の育成をめざして設立された札幌農学校に事実上の創設者として招かれ、自然科学や英語を教えるとともに、キリスト教の精神にもとづく教育を行い、学生に大きな影響を与えました。1年足らずで帰国した際、現在の恵庭市島松付近で、馬上から学生らに向けて発したとされる「少年よ、大志を抱け」という言葉が有名です。この人物の名を答えなさい。また、札幌農学校の2期生として学び、この人物から直接に教えは受けなかったものの、強く影響を受けてキリスト教に入信し、後に日露戦争の際には、キリスト教の立場から戦争反対を主張した人物として正しいものを、下のア～エのうちから1つ選び、記号で答えなさい。



ア 幸徳秋水	イ 内村鑑三	ウ 田中正造	エ 福沢諭吉
--------	--------	--------	--------



(5) 下線部(b)について、大磯町は、江戸時代には東海道の江戸から8番目の宿場町として栄え、1887年には東海道本線が東京から延び、保養地、高級別荘地となりました。町の東西を通る旧東海道である国道1号線は、正月の風物詩「箱根駅伝」のコースにもなっています。この大磯町のある県に関する文としてもっとも適当なものを、次のア～エのうちから1つ選び、記号で答えなさい。

ア この県は、江戸時代の後期に滝沢（曲亭）馬琴が著した『南総里見八犬伝』の主要な舞台となっています。

イ この県は、戦国時代には、武田信玄の支配地の中心となり、金山の開発や河川の工事などを行って国をおさめました。

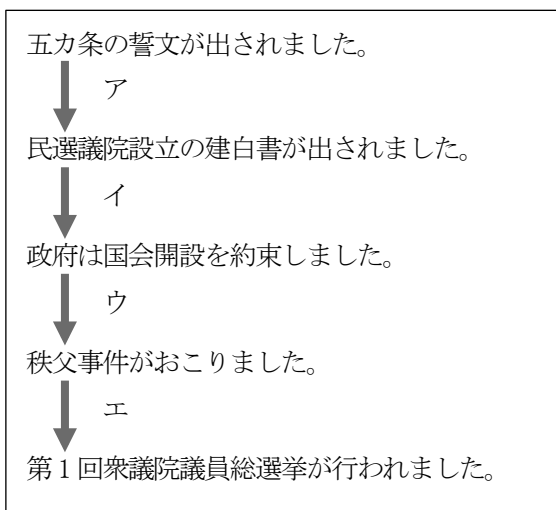
ウ この県は、明治から昭和初期にかけて製糸業がさかんで、この県と隣の県との境には、製糸工場で過酷な労働に従事した若い女工たちが越えた野麦峠があります。

エ この県の南東部の海岸にある稲村ヶ崎は、新田義貞の軍が潮の干満を利用して鎌倉に攻め入った地とされます。

(6) 文中の空らん（③）と（④）について、それぞれに当てはまる人物の名の組み合わせとして正しいものを、次のア～カのうちから1つ選び、記号で答えなさい。

- |   |          |          |   |          |          |
|---|----------|----------|---|----------|----------|
| ア | ③ — 山県有朋 | ④ — 岸 信介 | イ | ③ — 山県有朋 | ④ — 田中角栄 |
| ウ | ③ — 山県有朋 | ④ — 吉田 茂 | エ | ③ — 伊藤博文 | ④ — 岸 信介 |
| オ | ③ — 伊藤博文 | ④ — 田中角栄 | カ | ③ — 伊藤博文 | ④ — 吉田 茂 |

(7) 下線部(c)について、自由党は、それまで自由民権運動を推進してきた各地の政治グループを結集した政党で、国民の自由や権利の保障、主権在民などを主張しました。このような主張は、党が発行した『自由新聞』や各地で開かれた演説会などを通じて全国に広まり、とくに農民の支持を集めました。次の明治初期のできごとを年代順に並べた表のア～エの時期のうち、自由党が結成された時期として適当なものを1つ選び、記号で答えなさい。



(8) 下線部(d)について、この人物は、江戸時代の末に藩の海運業を握り、明治になってから藩の船をゆずり受けて商社を設立しました。この商社は、横浜と上海を結ぶ日本最初の海外航路を開設する一方、台湾出兵や西南戦争の軍事輸送を担当して政府の保護を受けるようになり、海運業の他に鉱山開発や造船、金融などの事業にも進出しました。これらの事業を基礎に、後に大財閥が形成されましたが、この財閥の名を答えなさい。

(9) 下線部(e)について、次のア～エのうちから、この年より前に起きたことを述べた文を1つ選び、記号で答えなさい。

ア 朝鮮戦争が勃発し、日本はその特需による好景気をむかえました。

イ アメリカが太平洋で水爆実験を行い、第五福竜丸が被爆しました。

ウ 治安維持法の廃止など、国民に対する圧政的な諸制度が撤廃されました。

エ 10年間で国民総生産を倍増させることを目標とする国民所得倍増計画が実施されました。

(10) 下線部(f)に関して、江戸幕府は、九州を中心に西日本に広まっていたキリスト教を禁止しましたが、「キリシタン」とよばれたキリスト教の信者の一部は、ひそかに信仰をまもり続けました。次の図は、このようなキリスト教徒を見つけ出して処罰するために幕府が用いたものです。これは金属でつくられた十字架のイエス=キリストの浮き彫りで、表面がかなりすり減っているのがわかります。このようなイエス=キリストの像などを用いてキリスト教徒を見つけ出すことを何といいますか。



## 5 次の文を読み、後の問いに答えなさい。

みなさん、あたらしい憲法ができました。そうして昭和二十二年五月三日から、私たち日本国民は、この憲法を守ってゆくことになりました。このあたらしい憲法をこしらえるために、たくさんの人々が、たいへん苦心をなさいました。ところでみなさんは、憲法というものはどんなものかごぞんじですか。じぶんの身にかかわりのないことのようにおもっている人はいないでしょうか。もしそうならば、それは大きなまちがいです。(中略) これまであった憲法は、明治二十二年にできたもので、これは明治天皇がおつくりになって、国民にあたえられたものです。しかし、こんどのあたらしい憲法は、日本国民がじぶんでつくったもので、日本国民ぜんたいの意見で、自由につくられたものであります。この国民ぜんたいの意見を知るために、昭和二十一年四月十日に総選挙が行われ、あたらしい国民の代表がえらばれて、その人々がこの憲法をつくったのです。それで、あたらしい憲法は、国民ぜんたいでつくったということになるのです。

これは、日本国憲法公布後に当時の文部省が中学校用の教科書として発行した『あたらしい憲法のはなし』の一部です。日本国憲法の精神や内容をやさしく解説しています。最近、(a)憲法改正に関する話題をよく耳にします。そのなかで、改正を望む側の理由として、「日本国憲法が自分たちで決めたものではなくて押し付けられたものだから」という意見があります。しかし、これは『あたらしい憲法のはなし』の「あたらしい憲法は、国民ぜんたいでつくった」という記述(下線部分)と矛盾します。これはいったいどういうことなのでしょう。ここでは、この問題について少し考えてみたいと思います。

1945年8月、日本は連合国の示したポツダム宣言を受け入れ、敗戦を迎えました。ポツダム宣言は(b)日本の非武装化や(c)民主主義化などを求めるもので、同年10月、日本政府は連合国軍総司令部(GHQ)の指示で憲法改正に向けての作業を開始しました。しかし、翌46年2月に提出された松本案と呼ばれる憲法案は、GHQによって却下されました。かわって、今度はGHQ側からあらたな憲法案が提示され、日本政府はこれにもとづく憲法改正案を作成しました。この憲法改正案は、第90回帝国議会で審議され、少しの修正を加えたのみで圧倒的多数の賛成により可決されました。こうして、日本国憲法が成立したのです。たしかに、日本国憲法の原型がGHQによってつくられたという側面があります。しかしそれが、(d)日本国民によって選ばれた議員で構成される議会で審議され、そこで承認されて成立したという事実は重要です。また、当時の知識人たちは、さまざまな立場から独自に憲法案を作成しましたが、それらの多くはGHQ案に近い内容を持つものでした。つまり、当時の日本にGHQ案に近い憲法意識がかなり広まっていたということになります。こうしたことから、日本国憲法は必ずしも「押し付けられた」ものではなく、日本国民の自主的な意思のもとに成立したともいえるでしょう。

次に、それまでの大日本帝国憲法と日本国憲法がどのような関係になるのが議論となります。じつは、日本国憲法は大日本帝国憲法第73条の改正規定にもとづいて審議され、可決されました。そうになると、日本国憲法は大日本帝国憲法の改正として成立したということになりますが、国民主権を基本原理とする前者と、(e)天皇主権をとる後者は根本的に相いれないものであり、ここには矛盾が生じ

ます。そこで「8月革命説」という考え方があらわれます。それによると、日本がポツダム宣言を受け入れた時点で天皇主権から国民主権への根本的な変化がおこった、すなわち合法的な革命が行われたのであり、日本国憲法は大日本帝国憲法の改正ではなく、国民主権にもとづいて日本国民があらたに制定したものである、と説明されます。この「8月革命説」に立つならば、日本国憲法は日本国民が自らの意思で制定したものと考えることができるのです。

以上、日本国憲法が「押し付けられた」ものなのか、あるいは、日本国民の意思のもとに制定されたのかという問題について少し考えてきました。この問題は、日本国憲法とは何なのかという問題と密接に関わります。この先日本国憲法が変わらないにせよ、改正あるいは加憲されるにせよ、憲法改正の議論がさかんとまっているいまだからこそ、日本国憲法とは何なのかという根本的な問いをあらためて考えることはとても重要だと思うのです。

(1) 下線部(a)について、以下の①～③の各問いに答えなさい。

- ① 憲法改正の手続きを定めているのは憲法の第何条ですか。
- ② 憲法改正の手続きについて述べた次の文ア～エのうちから、内容が正しいものを1つ選び、記号で答えなさい。

ア 国会における憲法改正の発議は、衆議院から行われなければなりません。

イ 国会における憲法改正の発議は、各議院の総議員の三分の二以上の賛成で行われます。

ウ 国会における憲法改正の発議が行われたあと、国民投票で三分の一以上の賛成があれば、改正は承認されます。

エ 憲法の改正が承認されたあと、内閣総理大臣がこれを公布します。

- ③ 憲法改正の議論のなかには、いわゆる「新しい人権」を憲法に加えるかどうかという議論も含まれます。「新しい人権」とは、人権に対する考え方の深まりや、社会・経済の大きな変動のなかで、人間の生活と権利を守る必要から新たに生まれ、裁判などを通して国民に認められてきた権利です。この「新しい人権」には、どのようなものがありますか。1つ答えなさい。

(2) 下線部(b)は、日本国憲法第9条によって実現されました。しかし、その後日本は自衛隊を持つようになったため、第9条の内容と自衛隊の存在をどのように考えればいいのかという問題が発生し、今日までさまざまな議論が行われてきました。この問題について、現在与党である自民党は憲法第9条の改正、あるいはその解釈の見直しに対して積極的な態度を示しています。ところで、自民党は経済政策にも意欲的に取り組み、景気の悪化と物価の下落が連動する経済状態から抜け出すことを目指しています。このような経済状態を何といえますか。カタカナ3字で答えなさい。

- (3) 下線部(c)について、民主主義を実現しようとする基礎には、基本的人権の尊重という考え方があります。人権という考え方は、もともとはヨーロッパで発達した思想で、日本には、およそ明治時代から後に紹介されたものでした。次の文章は、1789年にある国で起こった革命のさなかに出された「人権宣言」で、人権の思想を明確に主張したものとしたいへん重要なものです。この国では、革命を通じて青・白・赤の三色旗が国旗とされ、それぞれの色は革命がめざした自由・平等・博愛を象徴するといわれることもあります。この「人権宣言」が出された国はどこですか。下のア～エのうちから1つ選び、記号で答えなさい。

第1条 人間は自由かつ権利において平等なものとして生まれ、また、存在する。社会的な差別は、共同の利益にもとづいてのみ、設けることができる。

第2条 あらゆる政治的結合(国家)の目的は、人間の自然で時効により消滅することのない権利の保全である。それらの権利とは、自由・所有権・安全および圧政への抵抗である。

ア フランス      イ ドイツ      ウ イギリス      エ ロシア

- (4) 下線部(d)について、以下の①～③の各問いに答えなさい。

- ① この第90回帝国議会の衆議院議員は、1945年に改正された新しい選挙法によって選ばれました。このときの選挙から、選挙資格が満20歳に引き下げられ、さらに、それまで選挙に参加できなかった人たちが参加できるようになりました。このとき選挙資格を獲得したのは、どのような人たちでしたか。
- ② 現在の日本の衆議院議員選挙では、1選挙区から1人を選ぶ小選挙区制と、ある制度を組み合わせた方法がとられています。その制度とは、有権者が支持する政党に投票し、その得票数に応じて、事前に提出された各政党の候補者名簿の上位者から順に議席を割り当てるといいます。この選挙制度を何といいますか。漢字で答えなさい。
- ③ 最近、日本の選挙において「一票の格差」が問題とされ、裁判所は違憲(憲法違反)あるいは違憲状態という判決も出しています。「一票の格差」の問題は、憲法のどのような条文に反しているのでしょうか。次のア～エの日本国憲法の条文のうちから、「一票の格差」の問題にもっとも関連するものを1つ選び、記号で答えなさい。

ア すべて国民は、健康で文化的な最低限度の生活を営む権利を有する。

イ すべての国民は法の下に平等であって、人種、信条、性別、社会的身分又は門地により、政治的、経済的又は社会的関係において、差別されない。

ウ 公務員を選定し、及びこれを罷免することは、国民固有の権利である。

エ 何人も、同時に両議院の議員たることはできない。

(5) 下線部(e)について、以下の①～②の各問いに答えなさい。

① 大日本帝国憲法において天皇は「万世一系」とされました。歴史的に考えると、天皇が万世一系であるかは議論があるところですが、古代より天皇の地位が継承されてきたことは確かです。次のア～オの天皇を時代の古い順に並べたとき、**3番目**にくる天皇を選び、記号で答えなさい。

ア 持統天皇    イ 推古天皇    ウ 後醍醐天皇    エ 桓武天皇    オ 聖武天皇

② 大正時代に活躍した吉野作造という学者は、天皇主権をとる大日本帝国憲法のなかで民主主義の長所を取り入れようとしてしました。次の文章は吉野作造によるものです。文中の□に適する語句を、**漢字2字**で答えなさい。

□主義という文字は、日本語としてきわめて新しい使用例である。以前はふつう、民主主義という語で表現されていた。・・・我々から見て憲法にもとづいた政治を行うということは、政治上において一般の人々を大切に、政治上において階層による差別を行わず、しかも国の政治体制が、君主が主権をもつ君主国か、人々が主権をもつ共和国かを問わないで、広くどのような国でも通用するという考え方という意味で、□主義という比較的新しい用語がもっとも適当であると考えた。