


1 次の文を読み、後の問いに答えなさい。

2012年は、(a)1972年にユネスコ世界遺産条約が採択されてから40周年にあたる年でした。この条約で国際的に保護されることになった「世界遺産」について見ていきましょう。

世界遺産とは、地球と人類の歴史によって生み出され、過去から現在まで引き継がれてきた貴重な宝物であり、すべての人々が共有して、次の世代に伝えていかなくてはならない人類共通の財産です。

世界遺産という考え方が具体的に進んだのは、第二次世界大戦後のことでした。1960年代にエジプトでアスワン・ハイ・ダム建設が予定され、(b)川の上流の遺跡群に水没の危険が高まりました。そこで、ユネスコ（国際連合教育科学文化機関）が中心となって遺跡を救おうと世界に呼びかけ、多くの国々からたくさんのお金と技術などの援助が寄せられて、遺跡は無事に高台へ移設されました。次の図は、水没を避けるために古代の神殿を解体して高台に移す作業の様子です。



これは1つの国では難しいことでも、国際的に協力すれば成しとげられるという素晴らしい例となり、人類共通の遺産という考え方につながったと言われています。

世界遺産には、歴史的建造物や遺跡などの「文化遺産」と、特別な地形や動植物の生息地などの「自然遺産」、そして文化遺産と自然遺産を合わせ持った「複合遺産」の3種類があります。(c)日本の世界遺産は、2012年までに(d)文化遺産が12件、自然遺産が4件、合計で(e)16件が登録されています。

ユネスコは世界遺産の他に、「記憶遺産」と「無形文化遺産」の保護活動も進めています。(f)記憶遺産とは、後世に伝える価値のある記録物で、代表的なものでは、『アンネの日記』やフランスの『人権宣言』などが登録されています。また、無形文化遺産とは、世代から世代へ伝承される慣習や伝統、芸能、技術などで、日本からは能楽や歌舞伎の他、(g)伝統工芸技術も登録されています。

(h)これからも世界遺産が増えるのは喜ばしいことですが、登録されると、国や住民にそれを保護していく義務と責任が生じます。私たちも世界遺産のことをよく知って、(i)紛争や自然災害・開発から守り、将来へ伝えていきましょう。

- (1) 下線部(a)について、日本がこの条約を締結したのは、採択から20年たった1992年で、世界で125番目の締結国でした。20年もの間、日本が締結を見送っていた理由は、すでに国内に世界遺産条約と目的が似ている【 】保護法があったためと言われます。この法律は、法隆寺金堂の炎上を契機として1950年に定められ、歴史上、学術上に価値あるものを、土地や植物、動

物などをも含めて保護する、というものでした。[]にあてはまる語句を漢字3字で答えなさい。

(2) 下線部(b)について、この川の流域には、文中の図で示した神殿などをつくりだした高度な古代文明が誕生しました。この川の名を答えなさい。

(3) 下線部(c)について、日本で最初に登録された世界遺産は4件で、2件の文化遺産と2件の自然遺産でした。文化遺産は「法隆寺地域の仏教建造物」と「姫路城」、自然遺産は「白神山地」とある「島」でした。このうち法隆寺について説明した文として**適当でないもの**を、下のア～エのうちから1つ選び、記号で答えなさい。また、自然遺産に登録された「島」は、1000メートル以上の山々が30以上もあり、亜熱帯から亜寒帯にわたる多様な植物が生育するため、「日本列島の気候のすべてが詰め込まれている」といわれる島です。この島の名を漢字で答えなさい。

ア 法隆寺は天平文化の代表的な寺院で、^{こぼん}碁盤の目のようにつくられた平城京の中にある。

イ 法隆寺は聖徳太子が創建した寺院で、世界最古の木造建築である。


ウ 法隆寺にはギリシア建築の影響で、柱の中ほどがふくらんだエンタシスの柱がある。

エ 法隆寺には朝鮮半島の百済や中国大陸にあった国々の影響を受けた仏像がある。

(4) 下線部(d)について、この中には、世界に2件しか例がない、珍しい「道」の世界遺産もあります。この道は、独特な自然環境に根ざした信仰の場である神社や寺院などを結ぶもので、道とともに寺院、神社、さらに山や森林、滝などが同時に登録されています。この道がある地域は、日本有数の多雨地帯である半島で、2011年9月には台風による暴風雨によって、この道とともに登録されている神社が大きな被害を受けました。この道がある半島の名を漢字で答えなさい。

(5) 下線部(e)について、日本を8つの地方区分（北海道・東北・関東・中部・近畿・中国・四国・九州）に分けた場合、2013年1月現在までに登録されている世界遺産が**存在しない**地方が1つあります。その地方の名を答えなさい。

(6) 下線部(f)について、日本で初めて記憶遺産に登録されたのは、山本作兵衛が描いた炭坑画でした。次の図はその一部です。ここに描かれた炭鉱は、福岡県北部を中心とする炭田にありました。この炭田は日本一の石炭産出量をほこり、産出された石炭は八幡製鉄所でも大量に使われました。この炭田の名を答えなさい。



(7) 下線部(g)について、2009年に小千谷縮^{おちやちぢみ}と越後上布^{じょうふ}が無形文化遺産に登録されました。これらは、雪国の農家の副業として古くから伝えられてきた麻織物の技術です。次の図は、「雪さらし」といわれる工程で、織りあがった布を雪の上に広げて太陽の光にさらしています。この工程によって布地が白くなり、織った柄^{がら}が鮮やかに浮き立ちます。このような雪国の自然環境と風土が生み出した小千谷縮と越後上布を生産している都道府県の名を答えなさい。

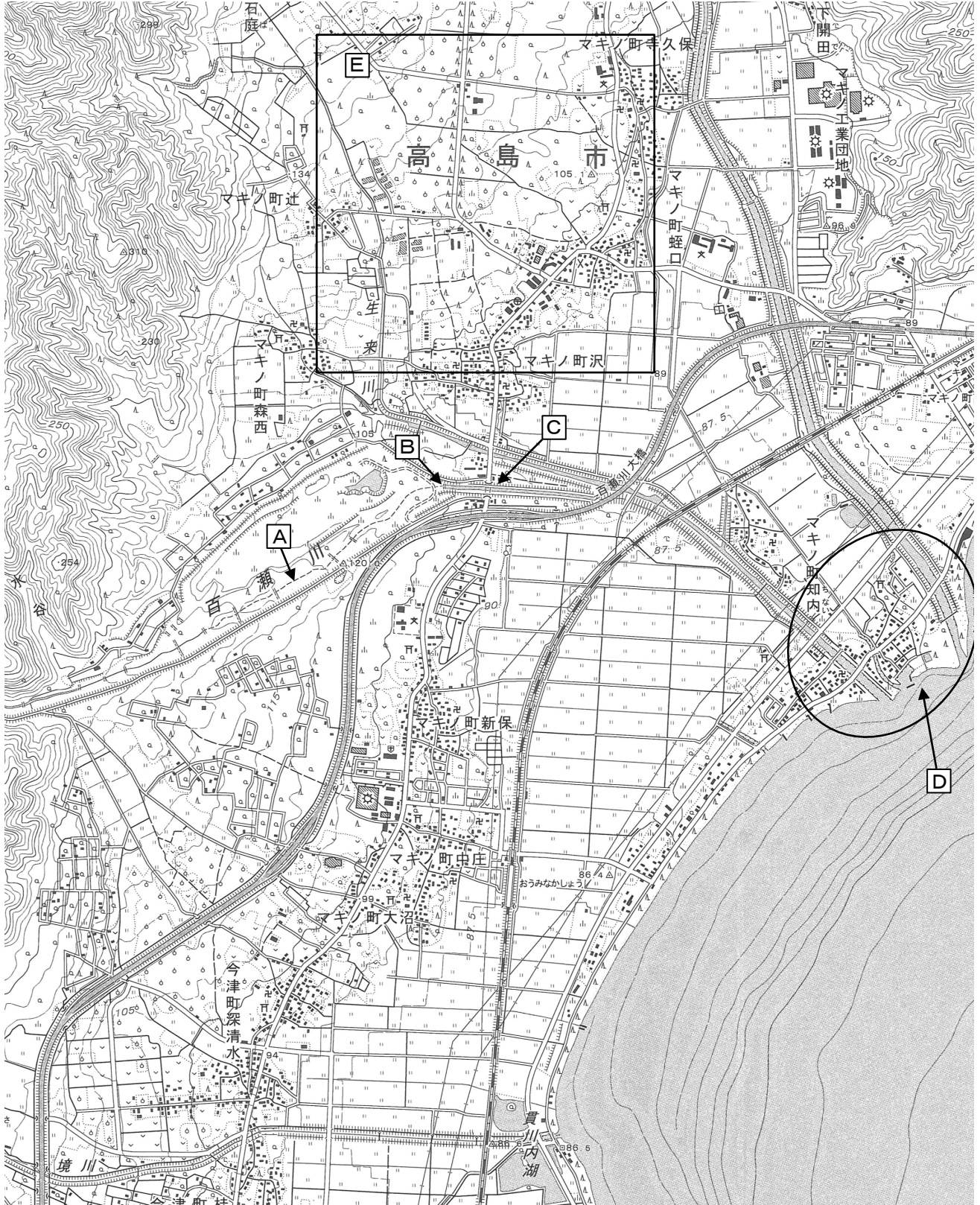


(8) 下線部(h)について、これから世界遺産への登録を目指すものを暫定候補と呼んでいますが、その中から、政府は2012年に「富士山」と「武家の古都・鎌倉」を世界遺産委員会へ推薦しました。この2件は、今年6月にカンボジアのプノンペンで開かれる世界遺産委員会で審議される予定です。このうち鎌倉は、日本で最初に武家政権が誕生した「武家の古都」ですが、ここには源氏と鎌倉幕府の守り神をまつた神社が建てられました。この神社の名として正しいものを、次のア～エのうちから1つ選び、記号で答えなさい。

ア 熱田神宮 イ 春日大社 ウ 鶴岡八幡宮 エ 浅間大社^{せんげん}

(9) 下線部(i)について、地域紛争や森林伐採などによって危機にさらされている世界遺産を「危機遺産」と言います。危機遺産は世界中に30件以上も登録され、その中に「スマトラ島の熱帯雨林」があります。スマトラ島は、ほぼ中央を赤道が通る大きな島で、面積は日本の1.3倍もあります。スマトラ島の東にはジャワ島があります。ジャワ島は日本の本州の半分ほどの面積に、日本の人口より多い1億3000万人以上の人に住んでいるため、人口密度がきわめて高いです。このスマトラ島やジャワ島などの島々を領土とする国の名を答えなさい。

2 次の地図と、これに関する文を読み、後の問いに答えなさい。



地図を読み解くと、その土地のさまざまな様子がわかります。そのためには、地図を丁寧に見て、そこから読み取ったことを整理していく必要があります。この地図は、滋賀県の「百瀬川」付近の地形図で、2000年に作成されたものです。縮尺は2万5千分の1です。この地図では上が北の方角になっています。

まず地図を大まかに見ると、右下に大きな湖があり、左側に山、中央に住宅地があることなどが読み取れます。また、くねくねとカーブしながら縦断する太い道路や、「百瀬川」の流れも読み取れます。ここでは「百瀬川」に注目して、地図を読み解いていきましょう。

「百瀬川」は、地図の左側に連なる山から流れ出て、右下側にある(a)大きな湖に注いでいます。この川が山から流れ出るところには、(b)扇状地とよばれる地形が見られます。川の流れが急にゆるやかになったところに、川が運んできた土砂が積もってつくられる地形です。扇状地の川下側の端を扇端とよびますが、この扇状地の扇端には、「マキノ町新保」「マキノ町中庄」「マキノ町大沼」「今津町深清水」などの住宅地が広がっています。

山から流れ出た「百瀬川」は右上に向かって流れますが、地図中の[A]では川の流れが点線になっています。これは、川が地下を流れていることを表しています。このような川の流れを伏流とよびます。川の流れは、[B]の地点で再び地表に現れます。

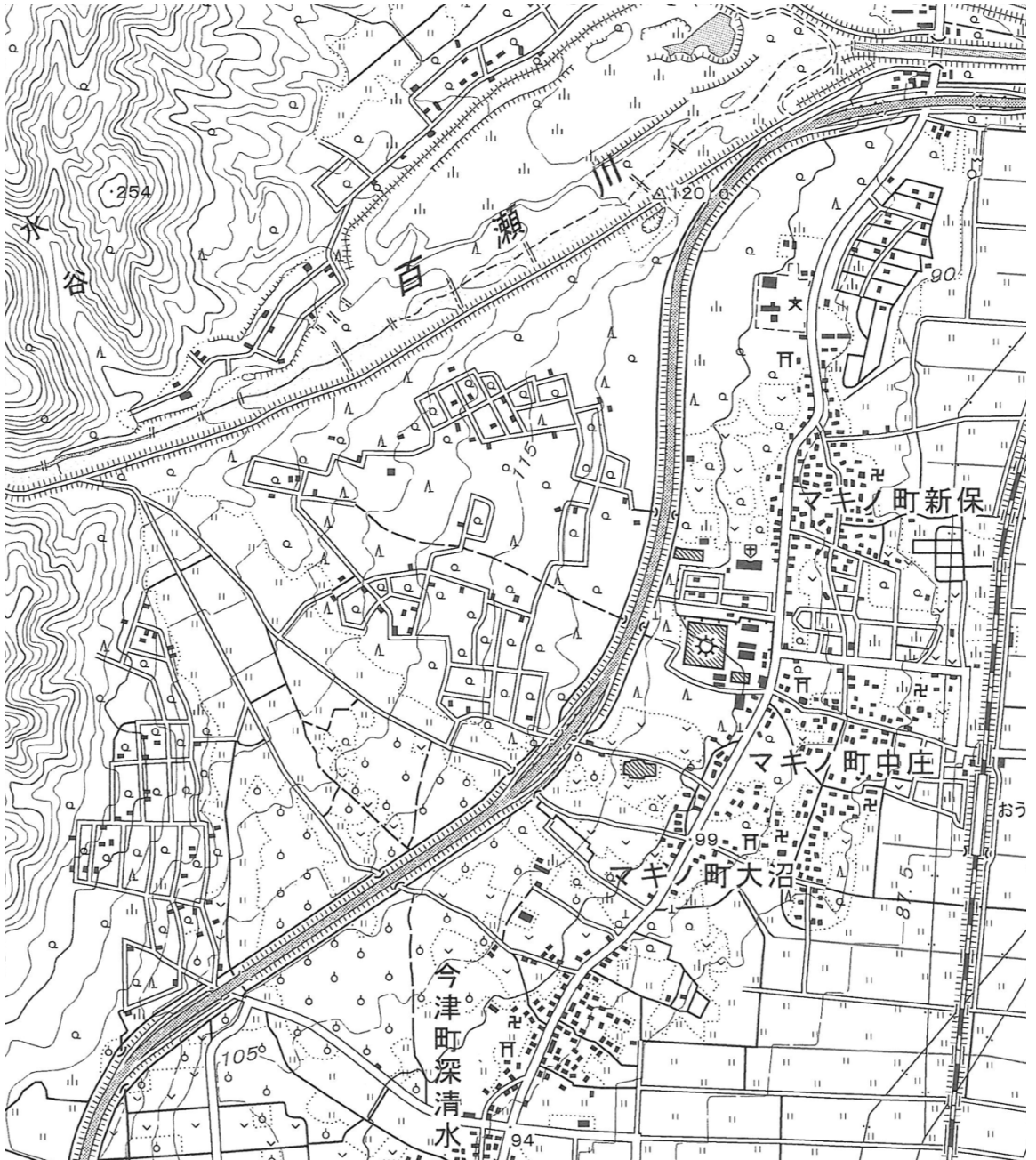
川と道路が交わる場所は、たいてい橋をかけて川の上に道路を渡しますが、地表を流れるようになった「百瀬川」が道路と交わる[C]の地点では、川が道路の上を渡り、道路は川の下につくられたトンネルを通っています。これは、「百瀬川」の川底に土砂がたまり、洪水を防ぐために堤防を高くすることを繰り返したため、周囲の土地より川底が高くなっていることによります。このような地形を天井川といいます。天井川は、北海道にない地形ですが、国内の各地に見られ、また(c)世界的にも珍しい地形です。

この後、「百瀬川」は(d)流れる方向を変え、住宅地を通って(e)湖に注ぎます。

このように地図を読み解くと、その土地のさまざまな様子がわかってきます。この地図は、地形図とよばれるもので、(f)国の機関が測量して作成し、発行しています。この機関が発行する地図には、他にも地勢図や土地利用図などの種類があり、縮尺も多様です。(g)縮尺とは、その名のとおり、実際の大さを縮めた割合のことを言います。札幌市の一部を見たいとき、日本全図を見たいとき、または世界全体の地図を見たいとき、というように、どの縮尺の地図を用いるかは、用途によって異なります。また、同じ地区を描いた地図でも、現在のもものと100年前につくられたものを比べると、地形や土地の利用などに大きな変化があることがわかります。それらを比較するのも、その地域を深く知るためには大事なことですね。

- (1) 下線部(a)について、この大きな湖の名を答えなさい。また、この湖は、多様な生態系を持つ湿地の保全を目的とした条約に登録されています。この条約は、1971年にイランで採択され、2012年3月までに世界の160か国が加盟し、1997か所（日本国内は37か所）が登録されています。この条約の名を答えなさい。

(2) 下線部(b)について、次の図は、地図中の扇状地の部分を拡大したものです。これから読み取れる扇状地の様子を述べた文として適当なものを、次のア～エのうちから1つ選び、記号で答えなさい。



- ア 扇状地の部分には住宅はまったく見られない。
- イ 川が山を出るところに果樹園は見られないが、住宅地に近づくにつれて多くなっている。
- ウ 扇状地のほぼ中心に「115」の数字が読み取れるが、これは国道115号線を表している。
- エ 広葉樹林が多く植えられているが、針葉樹林は見られない。

(3) 下線部(c)について、中国にも天井川として有名な川があります。この川の下流では、川底の最も高い所が周囲の平地より10mも高くなっているそうです。ですから、大雨などによって堤防が壊れてしまうと、大洪水が引き起こされ、非常に大きな被害をおよぼすことになります。この川は中国で2番目に長く、世界でも7番目の長さです。この中国の大河の名を漢字で答えなさい。

(4) 下線部(d)について、「百瀬川」は地表に現れてから流れをどのように変えていますか。最も適なもの、次のア～エのうちから1つ選び、記号で答えなさい。

ア 北から北西 イ 南西から北 ウ 南東から西 エ 東から南東

(5) 下線部(e)について、地図中の **D** で示した「百瀬川」の河口は、細かい土砂などが積もってきた地形で、平地が広がっています。この地形は、土の栄養分が豊富で水を得やすいため、日本では古くから水田に利用されてきました。また、水陸の交通が発達することで商工業もさかんになり、人口が集中して大都市がつくられてきました。東京、大阪、名古屋、福岡、広島などは、この地形につくられた大都市です。この地形の名を答えなさい。

(6) 下線部(f)について、この機関は、2001年までは建設省に、2001年の省庁再編後は建設省や運輸省を統合して発足した省の下に置かれています。この土地の測量や地図の作成を行う国の機関の名を答えなさい。

(7) 下線部(g)について、地図中の **E** に示した正方形は、1辺の長さが6 cmです。この正方形で囲まれた範囲の面積は、実際には何 km^2 ですか。単位に注意して答えなさい。

(8) 滋賀県は周囲が海に面していない内陸県で、4つの府県に囲まれています。次のア～エのうちから、滋賀県が接している府県の組合せとして正しいものを1つ選び、記号で答えなさい。

ア 福井県、大阪府、奈良県、岐阜県 イ 岐阜県、和歌山県、京都府、福井県
ウ 三重県、京都府、岐阜県、福井県 エ 三重県、岐阜県、京都府、大阪府

3 次の文を読み、後の問いに答えなさい。

「おじいさんは山へしば刈りに、おばあさんは川へ洗たくに」といえば、誰もが知っている昔話の「桃太郎」です。「桃太郎」や「一寸法師」「浦島太郎」などの昔話はおとぎ話とも呼ばれます。(a)多くのおとぎ話の原型は室町時代ころから成立していったと考えられ、江戸時代にはこれらのうち23編を選んだ『御伽文庫』が刊行されました(ただし、「桃太郎」は『御伽文庫』には入っていません)。おとぎ話は不思議に満ちていて、当然、それらすべてを事実と考えることはできません。ただし、おとぎ話が何らかの「歴史」を背景にして成立した可能性は考えられます。今回は、「桃太郎」にひそむ「歴史」を探ってみましょう。

まず、「桃太郎」の舞台はどこなのでしょう。これには諸説がありますが、一番有名なのは、岡山県とする説でしょう。JR岡山駅の前には桃太郎一行の像が立ち、瀬戸内海に浮かぶ女木島を鬼が島とする説もあります。きび団子の「きび」と、吉備地方(岡山県)の「吉備」の音が同じであることも、この説を後押ししているようです。さて、岡山県の吉備津神社には非常に興味深い伝承が伝えられています。それによると、(b)百済から温羅という鬼がやってきて、山中に城をかまえました。そこで、(c)朝廷はイサセリヒコノミコトをつかわして温羅を討ち、以後、ミコトは大吉備津彦と呼ばれるようになったそうです。この伝承が、「桃太郎」の成立に大きな影響を与えたと考えられているのです。

ところで、この伝承には、さらなる歴史がひそんでいる可能性があります。かつて、吉備地方にはヤマト政権に服属しない人びとがいたと考えられますが、『日本書紀』によれば、ヤマト政権は吉備津彦をつかわして吉備地方をふくむ西国を征服したといえます。この歴史と吉備津神社の伝承を比較してみると、(d)もともと吉備地方にいてヤマト政権に服属しなかった人びとに対して、のちの時代に温羅という鬼のイメージが重ねられていった可能性が出てくるわけです。この考えによるならば、「桃太郎」は、歴史→伝承→おとぎ話というプロセスをへて成立していったということになります。

では、「桃太郎」はいつ、どのようにして成立したのでしょうか。この問いに対する明確な答えはありませんが、おそらくは室町時代後期～戦国時代ころに成立したと考えられています。興味深い説としては、桃太郎の従者として現れる猿・キジ・(e)犬は十二支の申・酉・戌にあたり、方角でいえば西を意味する、というものです。もし、「桃太郎」が何らかの出来事をきっかけに成立したとするならば、この場合、当時の日本社会において西方の鬼にあたる存在は何になるのでしょうか。朝鮮や中国、あるいは(f)当時日本にやってくるようになっていたヨーロッパの国ぐにもあてはまるかもしれません。想像をたくましくするならば、このころに(①)が二度(1592～93年、1597～98年)にわたって西方の朝鮮に出兵したことが、「桃太郎」成立のきっかけになったとも考えられるかもしれません。

「桃太郎」の話は江戸時代以降に広まり、明治時代に教科書に採用されて以降、非常にポピュラーなものになっていきます。また、(g)日本がいくつかの戦争を経験していくなかで、桃太郎は徐々に勇ましい戦装束をまとうようになっていきます。すなわち、(h)桃太郎は、周辺および欧米諸国と戦いながら対外進出をはたしていく日本の象徴ととらえられていったのです。戦時中(1945年)に製作されたアニメ映画『桃太郎・海の神兵』は、桃太郎が「鬼畜米英」をこらしめるというストーリーであり、このことをよく表しているでしょう。

以上のように、子供のころに慣れ親しんだおとぎ話には、もしかしたらさまざまな「歴史」がひそんでいるのかもしれないのです。今回は「桃太郎」を取り上げましたが、(i)その他のおとぎ話、あるいは神話などについても同じようなことがいえるでしょう。昔の人が残した記録から歴史を調べる作業が歴史研究の主要な仕事ですが、こうした物語から歴史を探ることも、歴史研究の一コマなのです。

(1) 下線部(a)について、おとぎ話の成立にみられるように、室町時代は、武家や公家だけでなく、民衆による文化が数多く生まれた時代でした。室町時代の民衆に愛好された、能のあいだに演じられた風刺性ふうしの強い喜劇を何といいますか。

(2) 下線部(b)について、じつは温羅がいたといわれる山中には山城の遺跡があります。といっても、これは朝鮮式山城の遺跡です。朝鮮式山城とは、663年に倭国がある戦いで唐・新羅連合軍に敗れた後に、西日本各地に築かれた軍事施設のことです。この戦いの前後にはさまざまな出来事があいついで起こりましたが、次の出来事ア～エのうちから、この戦いより前に起こったものを1つ選び、記号で答えなさい。

ア 平城京への遷都 イ 壬申の乱 ウ 大宝律令の完成 エ 大化の改新

(3) 下線部(c)について、このとき、温羅の首を釜殿かまどのと呼ばれる建物のなかのかまどの下に埋めたそうですが、以後ここには不思議な力が宿り、この釜を炊いたときの音で吉兆を占うようになったそうです。これが吉備津神社の釜鳴神事かまなりの由来とされるもので、この神事を題材とした怪談「吉備津の釜」が江戸時代の上田秋成の作品におさめられています。この上田秋成の作品を、次のア～エのうちから1つ選び、記号で答えなさい。

ア 『雨月物語』 イ 『竹取物語』 ウ 『平家物語』 エ 『伊勢物語』

(4) 下線部(d)のようにヤマト政権に服属しなかった人びとは各地に存在していましたが、およそ6世紀頃までには、関東地方から九州中部にいたる地域はヤマト政権の支配下に入っていたと考えられます。その後、ヤマト政権は南九州そして東北地方に支配を拡大していきますが、当時、南九州においてヤマト政権の支配に抵抗した人びとを何と呼びましたか。

(5) 下線部(e)について、犬は古来より人間に近い存在で、日本の歴史においても犬にまつわるエピソードをもつ人物が多くいます。なかでも、江戸時代に生類憐みの令しょうるいあわれを出し、「犬公方」とも呼ばれた5代将軍徳川綱吉は有名でしょう。次の文ア～エは徳川綱吉の時代について述べたものですが、このうち誤りを含むものを1つ選び、記号で答えなさい。

ア 武家諸法度はつとの内容が、武芸を重んじるものから忠孝や礼儀を重んじるものに改められた。
イ 儒教を重視し、孔子をまつ日光東照宮とうしょうぐうを建てるとともに、林鳳岡ほうこうを大学頭に任じた。
ウ 幕府財政が悪化したため、荻原重秀しげひでの案により貨幣に含まれる金の量を減らした。
エ 赤穂藩主である浅野長矩あこうが吉良義央ながのりを斬りつけ、翌年浅野家の家臣だった者たちが吉良を討った赤穂事件が起こった。

- (6) 下線部(f)のヨーロッパの国ぐにとしては、ポルトガルやスペインがあげられます。当時の日本では、これらのポルトガル人やスペイン人を何と呼びましたか。漢字で答えなさい。
- (7) 文中の空らん (①) に適する人名を漢字で答えなさい。
- (8) 下線部(g)について、いくつかの戦争によって日本が海外領土を獲得していった結果、「桃太郎」はそうした地域にも広まりました。そうした地域の1つとして台湾があります。台湾では「桃太郎」は比較的知られており、1987年には「桃太郎」をモチーフとした『新桃太郎』という映画も制作されました。台湾は、ある戦争に日本が勝利して結んだ講和条約によって日本の領土になりました。この戦争を漢字で答えなさい。
- (9) 下線部(h)について、こうした時代の風潮に対して、おもに大正時代に活躍したある作家は短編『桃太郎』のなかで、鬼たちが平和に暮らす鬼が島への侵略者として桃太郎を描きました。この作家は、『今昔物語集』などの古典から題材をとった作品を多く発表し、作家の死後にはその名を冠した新人文学賞が設けられました。この作家を答えなさい。
- (10) 下線部(i)について、近年、アイヌの人たちのあいだに伝わってきた^{じょじし}叙事詩（詩の形式でつくられた神や英雄の物語）のなかに歴史をさぐる研究が進められています。これらの叙事詩はおもに口伝えに語り継がれてきたもので、「ポイヤウンペ」と呼ばれる孤児の少年を主人公とする英雄叙事詩や、神（カムイ）が登場する神話的なものなどがあります。こうした叙事詩をまとめて何といいますか。次のア～エのうちから1つ選び、記号で答えなさい。

ア チャシ イ ユーカラ ウ コタン エ ムックリ

4 次の文を読み、後の問いに答えなさい。

民間伝承を人々の生活や文化を通して研究する学問を民俗学といいます。例えば、マスクをした若い女性が学校帰りの子どもに「わたし、きれい？」とたずね、子どもが「きれい」と答えると、「これでも？」と言いながらマスクをはずす。するとその口は耳元まで大きく裂けていた。「きれいじゃない」と答えると鎌やハサミで斬り殺されるという(a)1970年代後半に全国に広がった「口裂け女」。この都市伝説がなぜ生まれ、どのように広まり、どうして信じられたのかといったことを研究するのも民俗学です。

(b)1862年に現在の(c)兵庫県中部で生まれた柳田国男は、(d)森鷗外と親交があり、学生時代には『文芸界』や『国民のとも』といった文芸雑誌に作品を投稿したりしていましたが、東京帝国大学（現在の東京大学）に進んでからは農政学を専攻し、卒業後は政府の官僚となりました。

1908年、九州を旅行した時に訪れた宮崎県北西部の椎葉村で、山村に住む人々の狩猟について関心を持ち、(e)鉄砲が使われる以前の狩猟に関する伝承（言い伝え）を『後狩詞記』としてまとめて出版しました。このころ日本では怪談ブームがおきており、民話や妖怪に関する小説を発表し始めた佐々木喜善を訪問し、佐々木が語った民話を柳田が筆録・編集して(f)『遠野物語』を出版しました。『遠野物語』は河童や座敷童子などの妖怪、神隠しなどの怪談、さらに信仰や儀式など119の話からなり、つづいて発表された続編には299の話が収められました。柳田は、さらに郷土研究に興味を持ち、(g)新渡戸稲造らと『郷土研究』という雑誌を刊行するなど、日本の民俗学の基礎をつくりました。

1920年からは東京朝日新聞の論説を担当しつつ、全国各地へ調査旅行に行き、1921年には沖縄を訪問しました。その時、「沖縄学の父」と称された伊波普猷らと交流しました。沖縄は、(h)琉球処分によって日本に組み込まれてから、さまざまな差別を受ける一方、日本への同化が進められました。そういった中で、明治時代末ころから、沖縄の歴史・伝統・文化などの研究を通じて、「沖繩人」としての独自性を探求していこうとする沖繩学がおこりました。1876年生まれの伊波は、沖縄の古い歌謡を集めた『おもしろさうし』を研究し、また言語を中心に沖縄の歴史・民俗・文学を探求した『古琉球』を著すなど、(i)高揚する沖繩学の中心的な学者でした。柳田が沖縄を訪問したのは、そのような時期でした。

東京帝国大学で言語学を研究し、柳田や伊波に教えを受ける機会に恵まれたのが、沖縄各地の方言を研究した仲宗根政善です。仲宗根は(j)沖縄県立第一高等女学校・沖縄師範学校女子部で教職についていましたが、第二次世界大戦が勃発し、その末期に、(k)「醜さの極致」といわれた沖繩戦に、女学生とともに巻き込まれました。

戦後の仲宗根は琉球大学の教授として、沖縄の教育復興に力をつくす一方、沖繩言語センターの代表となり、方言の研究を中心に、戦後の沖繩学の発展や研究者の育成などに尽力しました。

学問の研究というとなんと難しいと思いがちですが、何気ない私たちの生活の中にあるものや起こったことに疑問をもったり、小さなことに興味を持ったりすることが、すでに民俗学の研究をしていると言ってもいいのかも知れませんね。

(1) 下線部(a)について、1970年代の日本の内閣と、その時期の出来事の組合せとして正しいものを、次のア～エのうちから1つ選び、記号で答えなさい。

- ア 鳩山一郎内閣 — 東海道新幹線の開通と、東京オリンピックの開催
- イ 田中角栄内閣 — 日中共同声明が調印され、中華人民共和国との国交が正常化
- ウ 中曽根康弘内閣 — 水俣病や足尾鉍毒などの四大公害裁判が行われ、患者側が勝訴
- エ 小泉純一郎内閣 — 電電公社と国鉄が民営化され、NTTとJRが発足

(2) 下線部(b)について、1862年に江戸を出発した薩摩藩さつまの行列が、現在の神奈川県横浜市鶴見区付近にさしかかった際、乗馬していたリチャードソンら4人のイギリス人と行き会いました。薩摩藩士は、彼らが乗馬したままであったことを無礼な行為ぶれいとみなして刀などで斬りつけ、1人を斬殺、2人に重傷を負わせるという事件が起きました。イギリスは謝罪と賠償金を求め、幕府はこれを受け入れましたが、薩摩藩が拒否したので、薩英戦争を引き起こすことになりました。この薩英戦争の原因となった薩摩藩士によるイギリス人殺傷事件の名を漢字で答えなさい。

(3) 下線部(c)について、兵庫県には、日本の主要国際貿易港の1つで、国際戦略港湾に指定されている神戸港があります。この港の記録は奈良時代からみられ、かつては兵庫津ひょうごのつや大輪田泊おおわだのどまりとよばれていて、奈良時代～鎌倉時代にかけて瀬戸内海を航行する船舶が停泊する5つの港、五泊ごどまりの1つでした。この大輪田泊を修築し、中国(宋)との貿易の拠点とした人物の氏名を漢字で答えなさい。

(4) 下線部(d)について、森鷗外つわのは本名を森林太郎といい、島根県津和野町に生まれました。森鷗外は、夏目漱石と並んで日本を代表する文豪ですが、代々津和野藩医をつとめる家柄だったことから、東京帝国大学では医学を学び、卒業後は陸軍の軍医となって陸軍省派遣留学生として、当時医学の最先進国であったドイツに4年間留学しました。このドイツ留学を題材として執筆された、日本人の官僚の太田豊太郎(モデルは鷗外自身ともいわれています)とドイツ人女性エリスとの愛と離別をロマン的に描いた文学作品の名を答えなさい。

(5) 下線部(e)について、鉄砲は1543年、種子島に漂着したポルトガル人から、種子島時堯たねがしまときたかが購入したのをきっかけに日本国内でも生産が始まり、戦国大名の戦法や城の築き方を変化させ、統一事業を加速させる要因となりました。なかでも織田信長は鉄砲を有効に活用した戦国大名として代表的です。その信長が大量の鉄砲を用い、1575年の長篠の戦いで破った戦国大名を次のア～エのうちから1つ選び、記号で答えなさい。

- ア 武田氏
- イ 浅井氏
- ウ 朝倉氏
- エ 今川氏

(6) 下線部(f)について、『遠野物語』の舞台となった遠野市は、四方を山に囲まれた人口約3万人の市で、民間伝承に由来するカッパ^{ぶち}淵や伝承園、とおの昔話村などの観光地があります。また、遠野城下町資料館や城跡につくられた鍋倉^{なべくら}公園など、かつては盛岡藩支配下の城下町であったことをしのばせるところもあります。この遠野市のある都道府県の形を示した図として正しいものを、次のア～エのうちから1つ選び、記号で答えなさい。なお、図の縮尺はそれぞれ変えてあります。

ア



イ



ウ



エ



(7) 下線部(g)について、新渡戸稲造は柳田国男と同じ1862年に生まれ、著書の『武士道』は各国語に翻訳され、世界的なベストセラーとなりました。アメリカなどへの海外留学も長く、京都帝国大学や東京帝国大学などで教鞭^{きょうべん}をとった後、1918年に東京女子大学初代学長に就任しました。その後、第一次世界大戦後の1920年に創設された国際機関の事務次長にも選ばれ、活躍の場は日本だけでなく、世界へと広がりました。新渡戸稲造が事務次長となった国際機関の名称を漢字4字で答えなさい。

(8) 下線部(h)について、琉球処分とは、一般に、1872～79年にかけて日本が武力を背景に琉球王国を併合し、沖縄県を設置した一連の政策のことをいいます。琉球王国は長い間中国に従属する立場の国でしたが、江戸時代の初期に薩摩藩が軍事侵攻によって征服したので、琉球王国は中国と日本の両方の支配下におかれました。琉球王国を征服した薩摩藩主の家柄についての説明として、正しいものを次のア～エのうちから1つ選び、記号で答えなさい。

ア 地方武士だった毛利元就が中国地方一帯に勢力を広げ、息子たちに「三本の矢」の話で結束を説いたといわれる。

イ 地方武士から長宗我部元親の代に勢力を広げ、1585年には四国を統一したとされるが、同年の豊臣秀吉の四国征伐に敗北・降伏した。

ウ 守護から大名へと成長し、島津義久の代に九州の大半を支配したが、1587年の豊臣秀吉による九州征伐を受けて降伏した。

エ 守護代から関東管領となり、上杉謙信は毘沙門天の化身として周囲から恐れられ、武田信玄と川中島で激闘を繰り広げた。

(9) 下線部(i)について、沖縄県立第一高等女学校と沖縄師範学校女子部の学生222名と仲宗根政善を含む引率教員18名の合計240名の学徒隊は、アメリカ軍の沖縄本島上陸が間近にせまると、南風原陸軍病院の看護要員として動員されました。その後、アメリカ軍の圧倒的な攻撃によって日本軍が南部に後退すると、学徒隊も第一～第三外科に分散されて移動し、南部の凄惨な戦闘に巻き込まれました。仲宗根は砲弾で重傷を負いながら学生とともに逃げまどい、沖縄本島最南端の喜屋武海岸でアメリカ軍に包囲され、捕虜となりました。学徒隊は240名のうち136名が犠牲になって終戦をむかえましたが、翌年の1946年に、最も多くの犠牲者を出した第三外科壕跡に慰霊塔が建立されました。仲宗根は、この塔の除幕式に「いはまくら かたくもあらむ やすらかに ねむれとぞいのる まなびのともは」という戦死した女学生たちへの慰霊の歌をささげました。沖縄が本土に復帰した後の1989年には、この慰霊塔に隣接して平和祈念資料館が開設されました。この学徒隊は2つの学校の学生からなるため、両校の校友会誌の名を組み合わせた名前がつけられていました。この学徒隊の名をひらがなの言葉を使って答えなさい。

(10) 下線部(j)について、沖縄戦は、日本軍の司令官牛島満中将が自決したことで組織的な戦闘が終わりました。沖縄県は、この日を「慰霊の日」と定めていますが、これが条例で定められたのは、沖縄が本土に復帰した2年後の1974年のことでした。条例では、「戦争による惨禍が再び起こることのないよう、人類普遍の願いである恒久の平和を希求する」と、日本国憲法の平和主義を改めて確認しています。この「慰霊の日」は何月何日ですか。次のア～エのうちから1つ選び、記号で答えなさい。

ア 6月23日

イ 8月6日

ウ 8月15日

エ 12月8日

5 次の文を読み、後の問いに答えなさい。

わたしたちが暮らしている日本のこんにちの政治は、民主政治と呼ばれるものです。この民主政治の基本となる考え方を民主主義と呼びます。

民主政治は、まず(a)ヨーロッパで始まりました。それが次第に広まっていき、今では(b)アメリカ合衆国や日本など、(c)先進国とよばれるさまざまな国で行われるようになってきました。(d)日本にその考え方が紹介されたのは明治時代ですが、現在のような民主政治が行われるようになったのは、第二次世界大戦が終わって、日本国憲法が制定された後のことです。

一口に民主政治と言っても、具体的なしくみは、それぞれの国や時代によって異なります。しかし、その原理的なしくみは共通しています。民主政治の原理は、次の5つにまとめられます。

1つ目は、国民が (①) をもつことです。(①) とは、その国のあり方を最終的に決める力です。2つ目は、国民の(e)基本的人権が守られていることです。3つ目は、政治は法に基づいて行われることです。4つ目は、国のもつ力をいくつかに分ける (②) の制度です。これについて、日本国憲法は、立法権が(f)国会に、行政権が(g)内閣に、司法権が(h)裁判所に属すると定めています。そして5つ目は、間接民主制です。これについて、憲法は前文で「日本国民は、正当に選挙された国会における代表者を通じて行動」する、と定めています。

では、「憲法が民主政治の原理を定めているから、日本の民主政治は安心だ」と考えていいのでしょうか。そうではありません。現在の民主政治は、私たちの先人の長年にわたる努力によって実現してきたものですから、私たちは、それに無関心であったり、人まかせにしたりしないで、先人と同じように努力を続けなければならないのです。

民主政治とは、簡単にいうと、「自分たちのことは、自分たちで考え、話し合い、自分たちで決定して行動する」政治ということが出来ます。逆にいえば、自分たちで考えることを止めたり、人まかせにしたり、政治に無関心になったり、行動しなかったりすると、民主政治はあっという間に崩れてしまうということを、忘れないようにしましょう。

(1) 文中の空らん (①) (②) に適する語句を漢字で答えなさい。

(2) 下線部(a)について、現在ヨーロッパの多くの国で民主政治が行われています。それらの国が加盟するヨーロッパ連合 (EU) が結成されてから10年以上がたちました。これに加盟する多くの国が用いている共通通貨を何といいますか。カタカナで答えなさい。

(3) 下線部(b)について、日本には多くのアメリカ軍が駐留しています。これは日本とアメリカ合衆国との間に結ばれている日米 [] 条約にもとづいています。[] にあてはまる語句を漢字4字で答えなさい。

(4) 下線部(c)について、先進国の大統領や首相が集まり、経済的な問題だけでなく、世界のさまざまな問題を話し合う会議を何といいますか。次のア～エのうちから1つ選び、記号で答えなさい。

ア アセアン イ G20 ウ サミット エ TPP

(5) 下線部(d)について、明治時代に日本に民主政治の考え方を紹介しようとした人物として最も適当なものを、次のア～エのうちから1つ選び、記号で答えなさい。

ア 中江兆民 イ 西郷隆盛 ウ 東条英機 エ 吉田茂

(6) 下線部(e)について、日本国憲法で認められている基本的人権について説明した文として最も適当なものを、次のア～エのうちから1つ選び、記号で答えなさい。

- ア 法律の範囲内で、内閣が承認した権利に限られる。
- イ いかなる場合も、無条件で無制限に認められる権利である。
- ウ すべての国民に、^{おか}侵すことのできない永久の権利として認められている。
- エ 近年、プライバシーの権利や知る権利などが憲法の条文に加えられた。

(7) 下線部(f)について、国会に関して述べた文として最も適当なものを、次のア～エのうちから1つ選び、記号で答えなさい。

- ア 衆議院の総議員の過半数の賛成と、参議院の総議員の過半数の賛成があれば、憲法を改正することができる。
- イ 参議院は内閣の大臣に対する問責決議ができるが、内閣総理大臣の不信任を決議できるのは衆議院だけである。
- ウ 条約の締結や予算の審議は、衆議院と参議院のどちらが先に行ってもよいが、法律案の議決と内閣総理大臣の指名は衆議院が先に行われなければならない。
- エ 内閣の大臣は衆議院か参議院かどちらかの国会議員であればよいが、内閣総理大臣は衆議院議員でなければならない。

(8) 下線部(g)について、内閣に関する文として最も適当なものを、次のア～エのうちから1つ選び、記号で答えなさい。

- ア 内閣の大臣の人数は、内閣総理大臣の判断により、何人任命してもよい。
- イ 内閣は、必要に応じて弾劾裁判所^{だんがいはい}を設置できる。
- ウ 閣議の議決方法は、過半数が原則である。
- エ 内閣は、天皇の国事行為に助言と承認を与える。

(9) 下線部(h)について、裁判員制度が導入されて3年がたちました。裁判員は、重大な刑事裁判に関して、裁判官とともに審理に参加し、有罪か無罪かの事実認定と刑の重さを判断します。この裁判員になる条件として最も適当なものを、次のア～エのうちから1つ選び、記号で答えなさい。

- ア 国会議員または地方議会議員の経験があること。
- イ 何らかの形で裁判に関わった経験があること。
- ウ 裁判員になることを希望する成人で、そのための研修を修了していること。
- エ 衆議院議員の選挙権を有していること。